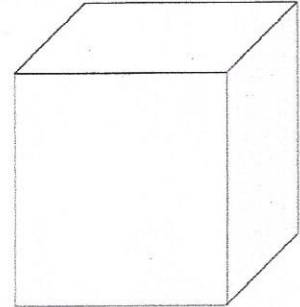


## Steckbriefe- Körper – Merkblatt

### Würfel

Der Würfel hat  Ecken.  
Der Würfel hat  Kanten.  
Der Würfel hat  Flächen.


Die Form eines Würfels  
haben z. B.



### Der Quader

Der Quader hat  Ecken.  
Der Quader hat  Kanten.  
Der Quader hat  Flächen.


Die Form eines Quaders  
haben z. B.



### Der Zylinder

Der Zylinder hat  Ecken.  
Der Zylinder hat  Kanten.  
Der Zylinder hat  Flächen.

Die Form eines  
Zylinders haben z. B.



### Die dreiseitige Pyramide

Die Pyramide hat  Ecken.  
Die Pyramide hat  Kanten.  
Die Pyramide hat  Flächen.

Die Form einer  
Pyramide haben z. B.

